

**Проверочная работа
по МАТЕМАТИКЕ**

4 КЛАСС

Образец

Инструкция по выполнению работы

На выполнение работы по математике даётся 45 минут. Работа содержит 12 заданий.

В заданиях, после которых есть поле со словом «Ответ», запиши ответ в указанном месте.

В заданиях 5 (пункт 2) и 11 нужно сделать чертёж или рисунок. В задании 10 нужно записать ответ, заполнив приведённую форму.

В заданиях, после которых есть поле со словами «Решение» и «Ответ», запиши решение и ответ в указанном месте.

Если ты хочешь изменить ответ, то зачеркни его и запиши рядом новый.

При выполнении работы нельзя пользоваться учебниками, рабочими тетрадями, справочниками, калькулятором.

При необходимости можно пользоваться черновиком. Записи в черновике проверяться и оцениваться не будут.

Советуем выполнять задания в том порядке, в котором они даны. Для экономии времени пропускай задание, которое не удаётся выполнить сразу, и переходи к следующему. Постарайся выполнить как можно больше заданий.

Желаем успеха!

Таблица для внесения баллов участника

Номер задания	1	2	3	4	5(1)	5(2)	6(1)	6(2)	7	8	9(1)	9(2)	10	11	12	Сумма баллов	Отметка за работу
Баллы																	

1

Вычисли: $43 - 27$.

Ответ:

2

Вычисли: $7 + 3 \cdot (8 + 12)$.

Ответ:

3

Рассмотри рисунок и ответь на вопрос: сколько рублей сдачи получит покупатель, расплатившийся за пакет молока и батон хлеба купюрой в 100 рублей?



Запиши решение и ответ.

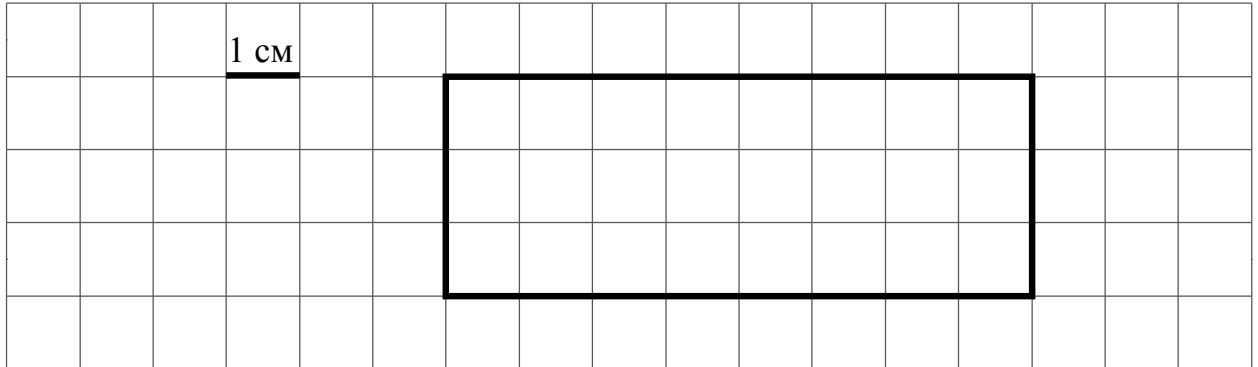
Решение:

Ответ:

- 4) Во сколько начались занятия спортивной секции, если они длились 1 час 30 минут и закончились в 17 часов 15 минут?

Ответ:

- 5) На клетчатом поле со стороной клетки 1 см изображён прямоугольник.



- 1) Найди площадь этого прямоугольника. Ответ дай в квадратных сантиметрах.

Ответ:

- 2) Проведи на рисунке выше прямую линию так, чтобы этот прямоугольник оказался разбит на квадрат и ещё один прямоугольник.

- 6) В спортивных соревнованиях по нескольким видам спорта приняли участие 4 команды. Количество медалей, полученных командами, представлено в таблице. Используя эти данные, ответь на вопросы.

Команда	Золотые	Серебряные	Бронзовые
«Сириус»	7	8	3
«Орион»	6	4	5
«Заря»	4	6	7
«Весна»	3	2	5

- 1) Сколько серебряных медалей завоевала команда «Сириус»?

Ответ:

- 2) Какая команда заняла 3 место по сумме всех медалей?

Ответ:

7 Найди значение выражения $12012 : 3 - 170 \cdot 4$.

<div style="border: 1px dashed black; width: 20px; height: 20px; display: inline-block; margin-bottom: 5px;"></div> Ответ:	
--	--

8 Три килограмма варенья разложили в банки по 400 г и в банки по 200 г. Банок по 400 г оказалось 4. Сколько потребовалось банок по 200 г?

Запиши решение и ответ.

Решение:	
<div style="border: 1px dashed black; width: 20px; height: 20px; display: inline-block; margin-bottom: 5px;"></div> Ответ:	

9 Татьяна должна обсудить свою новую идею с директором, бухгалтером и программистом. С каждым из них обсуждение длится ровно час. Известно, что директор занят с 10 до 12 часов, бухгалтер приезжает на работу к 10 часам, а у программиста важное совещание с 10 до 11 часов. При этом Татьяна смогла закончить все три обсуждения к 12 часам, придя на работу к 9 часам.

1) У кого Татьяна была в 11:30?

<div style="border: 1px dashed black; width: 20px; height: 20px; display: inline-block; margin-bottom: 5px;"></div> Ответ:	
--	--

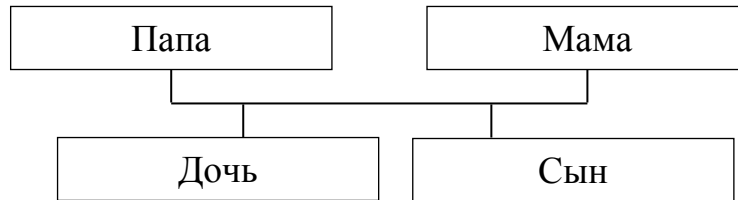
2) К кому отправилась Татьяна после обсуждения идеи с директором?

<div style="border: 1px dashed black; width: 20px; height: 20px; display: inline-block; margin-bottom: 5px;"></div> Ответ:	
--	--

10

Родственные связи можно представить в виде схемы. Например, на схеме ниже представлена семья с двумя детьми. Такую схему ещё называют родословное или семейное дерево.

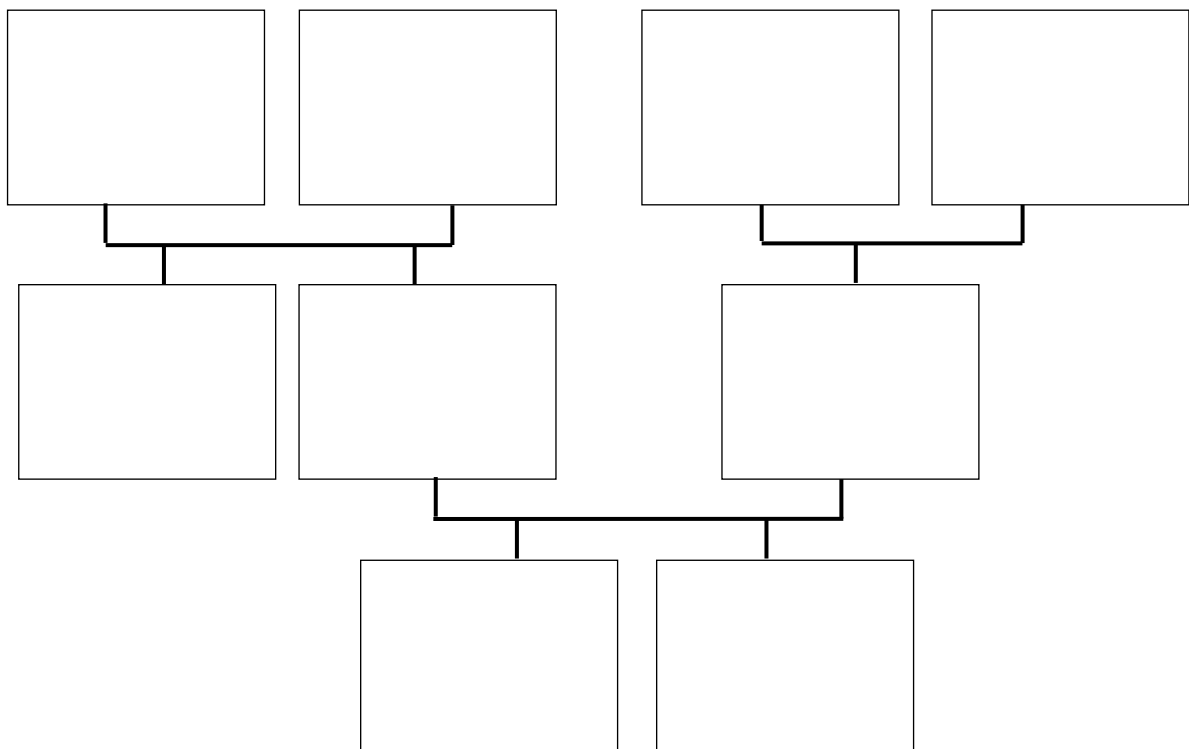
Пример



Прочитай текст и изобрази семейное дерево, включающее всех перечисленных в тексте родственников. Впиши в прямоугольники на схеме имена или имена и отчества родственников.

Меня зовут Светлана. Мою маму зовут Юлия Ивановна, она работает технологом на швейной фабрике. Её родители живут далеко от нас, в деревне Нутрома Тверской области. Бабушка Марина Игнатьевна уже на пенсии, а дедушка Иван Михайлович работает на деревообрабатывающем комбинате. С ними живёт мамин брат дядя Саша, но он поступил в институт и скоро поедет учиться в Тверь. Летом мы ездим к ним в гости. Моего папу зовут Виталий Владимирович, он водитель автобуса. Когда я была маленькая, мама забирала меня из садика, мы успевали на его рейс и папа довозил нас до дома. Мой дедушка Владимир Миронович тоже работал водителем, но он уже умер. А бабушка Анна Николаевна живёт вместе с нами. Она заботится обо мне и моём братике Вите.

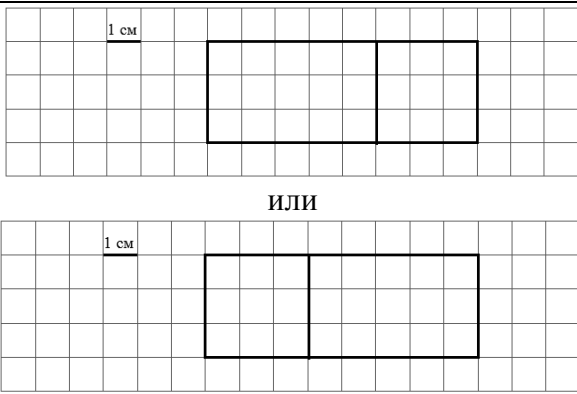
Схема для заполнения



Система оценивания проверочной работы**Оценивание отдельных заданий**

Номер задания	1	2	3	4	5.1	5.2	6.1	6.2	7	8	9.1	9.2	10	11	12	Итого
Балл	1	1	2	1	1	1	1	1	1	2	1	1	2	2	2	20

Ответы

Номер задания	Правильный ответ
1	16
2	67
4	В 15 часов 45 минут или в 15:45
5 пункт 1	24
5 пункт 2	
6 пункт 1	8
6 пункт 2	Орион
7	3324
9 пункт 1	У программиста
9 пункт 2	К бухгалтеру
12	3

Решения и указания к оцениванию ответов на задания 3, 8, 10-12

3

Рассмотри рисунок и ответь на вопрос: сколько рублей сдачи получит покупатель, расплатившийся за пакет молока и батон хлеба купюрой в 100 рублей?



Запиши решение и ответ.

Решение и указания к оцениванию	Баллы
<p>Решение. Стоимость покупки $32 + 33 = 65$ (руб.). Сдача $100 - 65 = 35$ (руб.).</p> <p>Допускается другая последовательность действий, обоснованно приводящая к верному ответу.</p> <p>Ответ: 35 руб.</p>	
Проведены все необходимые преобразования и/или рассуждения, приводящие к ответу, получен верный ответ	2
Проведены все необходимые преобразования и/или рассуждения, приводящие к ответу, но допущена одна арифметическая ошибка, не нарушающая общей логики решения, в результате чего получен неверный ответ	1
Не проведены необходимые преобразования и/или рассуждения, ИЛИ Приведены неверные рассуждения, ИЛИ В рассуждениях и преобразованиях допущено более одной арифметической ошибки	0
<i>Максимальный балл</i>	2

8

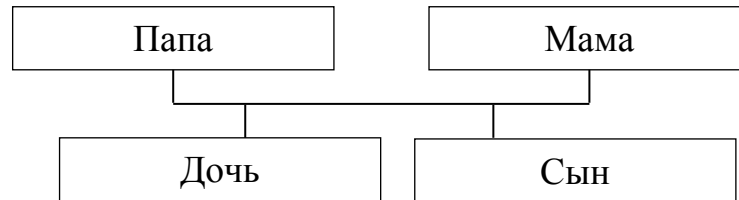
Три килограмма варенья разложили в банки по 400 г и в банки по 200 г. Банок по 400 г оказалось 4. Сколько потребовалось банок по 200 г?

Запиши решение и ответ.

Решение и указания к оцениванию	Баллы
<p>Решение. В четырёх банках по 400 г содержится $4 \cdot 400 = 1600$ г варенья. Всего варенья 3 кг или 3000 г. Значит, в банках по 200 г содержится $3000 - 1600 = 1400$ г варенья. Для хранения такого количества требуется $1400 : 200 = 7$ банок.</p> <p>Допускается другая последовательность действий, обоснованно приводящая к верному ответу.</p> <p>Ответ: 7 банок.</p>	
Проведены все необходимые преобразования и/или рассуждения, приводящие к ответу, получен верный ответ	2
Проведены все необходимые преобразования и/или рассуждения, приводящие к ответу, но допущена одна арифметическая ошибка, не нарушающая общей логики решения, в результате чего получен неверный ответ	1
Не проведены необходимые преобразования и/или рассуждения, ИЛИ Приведены неверные рассуждения, ИЛИ В рассуждениях и преобразованиях допущено более одной арифметической ошибки	0
<i>Максимальный балл</i>	2

- 10 Родственные связи можно представить в виде схемы. Например, на схеме ниже представлена семья с двумя детьми. Такую схему ещё называют родословное или семейное дерево.

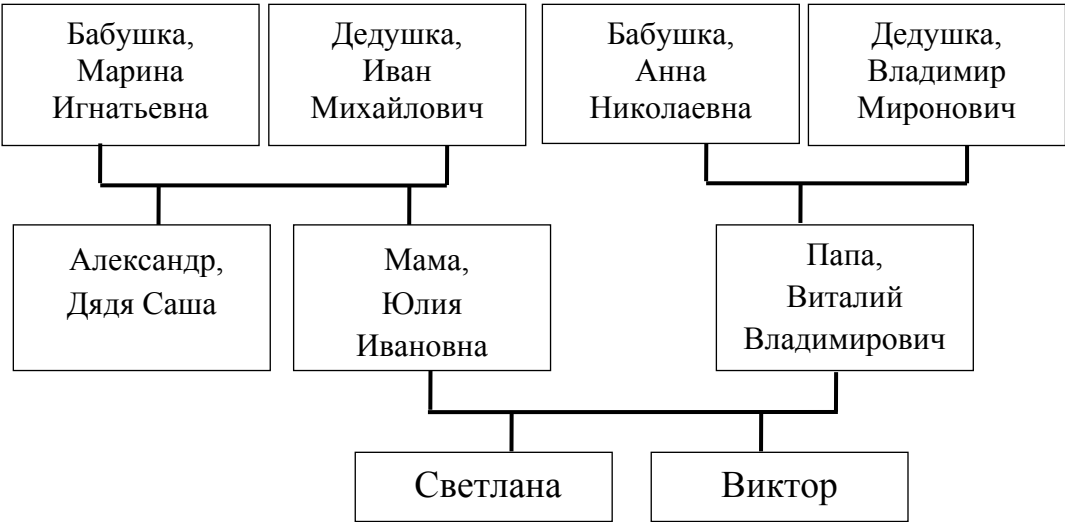
Пример



Прочитай текст и изобрази семейное дерево, включающее всех перечисленных в тексте родственников. Впиши в прямоугольники на схеме имена или имена и отчества родственников.

Меня зовут Светлана. Мою маму зовут Юлия Ивановна, она работает технологом на швейной фабрике. Её родители живут далеко от нас, в деревне Нутрома Тверской области. Бабушка Марина Игнатьевна уже на пенсии, а дедушка Иван Михайлович работает на деревообрабатывающем комбинате. С ними живёт мамин брат дядя Саша, но он поступил в институт и скоро поедет учиться в Тверь. Летом мы ездим к ним в гости.

Моего папу зовут Виталий Владимирович, он водитель автобуса. Когда я была маленькая, мама забирала меня из садика, мы успевали на его рейс и папа довозил нас до дома. Мой дедушка Владимир Миронович тоже работал водителем, но он уже умер. А бабушка Анна Николаевна живёт вместе с нами. Она заботится обо мне и моём братике Вите.

Решение и указания к оцениванию	Баллы
<p>Решение.</p>  <p>Допускаются и другие варианты заполнения схемы, если они соответствуют родственным связям. В блоках схемы могут быть указаны имена и отчества родственников или только имена</p>	
Все блоки схемы заполнены правильно (в соответствии с родственными связями, имена / имена и отчества родственников указаны верно)	2
Все блоки схемы заполнены, при заполнении 1—2 блоков допущены ошибки. ИЛИ Не заполнены 1—2 блока схемы, остальные блоки заполнены правильно	1
Все иные ситуации, не предусмотренные правилами выставления 2 и 1 балла	0
<i>Максимальный балл</i>	2

- 11 Миша написал на футболке своё имя (см. рис 1.) Затем он подошел к зеркалу. Нарисуй, как будет выглядеть отражение его имени в зеркале (рис. 2).




Рис. 1






Рис. 2

Указания к оцениванию	Баллы
Приведён верный рисунок 	2
Приведён рисунок, на котором буквы нарисованы в правильном порядке, но есть неверно изображённые буквы, например: 	1
Приведено решение, не соответствующее критериям на 1 или 2 балла, ИЛИ решение отсутствует	0
<i>Максимальный балл</i>	2

12

В «Детском мире» продавали двухколёсные и трёхколёсные велосипеды. Максим пересчитал все рули и все колёса. Получилось 12 рулей и 27 колёс. Сколько трёхколёсных велосипедов продавали в «Детском мире»?

Запиши решение и ответ.

Решение и указания к оцениванию	Баллы
<p>Решение. Поскольку рулей 12, то и велосипедов 12. Если бы все велосипеды были двухколёсные, то колёс было бы $12 \cdot 2 = 24$. Но колёс всего 27, то есть на 3 больше. Значит, среди велосипедов было 3 трёхколёсных.</p> <p>Должно быть также засчитано решение:</p> <p>$3 \cdot 3 + 9 \cdot 2 = 27$. Поэтому трёхколёсных велосипедов 3.</p> <p>Допускается другая последовательность действий и рассуждений, обоснованно приводящая к верному ответу.</p> <p>Ответ: 3</p>	
Проведены все необходимые преобразования и/или рассуждения, приводящие к ответу, получен верный ответ	2
Проведены все необходимые преобразования и/или рассуждения, приводящие к ответу, но допущена одна арифметическая ошибка, не нарушающая общей логики решения, в результате чего получен неверный ответ	1
Не проведены необходимые преобразования и/или рассуждения, ИЛИ Приведены неверные рассуждения, ИЛИ В рассуждениях и преобразованиях допущено более одной арифметической ошибки	0
<i>Максимальный балл</i>	2

Система оценивания выполнения всей работы

Максимальный первичный балл за выполнение работы — 20.

Рекомендации по переводу первичных баллов в отметки по пятибалльной шкале

Отметка по пятибалльной шкале	«2»	«3»	«4»	«5»
Первичные баллы	0–5	6–9	10–14	15–20

Обучающимся, набравшим 18–20 баллов, по решению образовательной организации может быть выставлено две отметки «5». Кроме того, рекомендуется обеспечить возможности для развития математических способностей у таких обучающихся.

**Проверочная работа
по предмету «ОКРУЖАЮЩИЙ МИР»**

4 класс

Образец

Инструкция по выполнению работы

На выполнение работы по учебному предмету «Окружающий мир» даётся 45 минут. Работа состоит из двух частей и включает в себя 10 заданий.

Ответы на задания запиши в поле ответа в тексте работы.

При выполнении работы не разрешается пользоваться учебником, рабочими тетрадями и другим справочным материалом.

Советуем выполнять задания в том порядке, в котором они даны. Для экономии времени пропускай задание, которое не удаётся выполнить сразу, и переходи к следующему. Постарайся выполнить как можно больше заданий.

Желаем успеха!



В образце представлено по несколько примеров заданий 3 и 8. В реальных вариантах проверочной работы на каждую из этих позиций будет предложено только одно задание.

Заполняется учителем, экспертом или техническим специалистом

Обратите внимание: в случае, если какие-либо задания не могли быть выполнены целым классом по причинам, связанным с отсутствием соответствующей темы в реализуемой школой образовательной программе, в форме сбора результатов ВПР всем обучающимся класса за данное задание вместо балла выставляется значение «Тема не пройдена». В соответствующие ячейки таблицы заполняется н/п.

Таблица для внесения баллов участника

Номер задания	1	2	3.1	3.2	3.3	4	5	6.1	6.2	6.3	7.1	7.2	8 К1	8 К2	8 К3	9 К1	9 К2	9 К3
Баллы																		

10.1	10.2 К1	10.2 К2	10.2 К3	Сумма баллов	Отметка за работу

Часть 1

1

Рассмотри рисунок, на котором изображён кабинет врача. Стол может быть изготовлен из дерева. Он отмечен на рисунке стрелкой с соответствующей надписью.

Покажи на рисунке стрелкой любой предмет (любую деталь) из металла и любой предмет (любую деталь) из стекла. Подпиши название соответствующего материала рядом с каждой стрелкой.



2

На интернет-сайтах погоды можно встретить подобные таблицы. Изучи прогноз погоды на трое суток.

	Вторник, 27 мая				Среда, 28 мая				Четверг, 29 мая			
	Ночь	Утро	День	Вечер	Ночь	Утро	День	Вечер	Ночь	Утро	День	Вечер
Облачность и атмосферные осадки												
Температура воздуха, °С	21	23	23	22	21	24	24	23	21	24	24	23
Направление ветра												
	С	С	С	С	СВ	СВ	СВ	СВ	В	В	ЮВ	Ю
Влажность воздуха, %	79	71	67	65	74	68	73	76	76	66	60	82

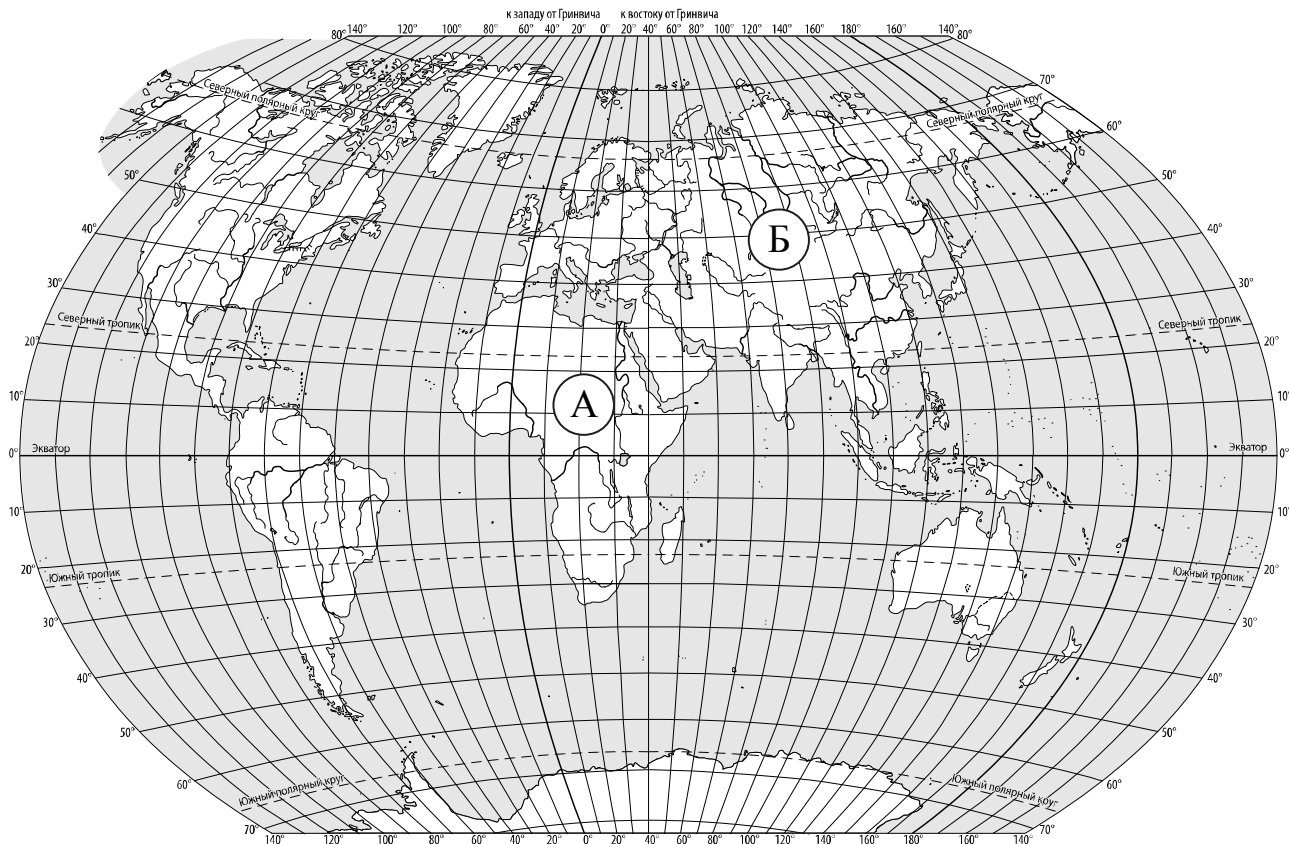
Выбери верные утверждения об ожидаемой погоде на эти трое суток и запиши в строку ответа их номера.

- 1) В среду температура воздуха не превысит 21 °С.
- 2) Во вторник будет дуть северный ветер.
- 3) Влажность воздуха не изменится с вечера вторника до утра среды.
- 4) На протяжении всех трёх суток будет преобладать переменная облачность.

Ответ: _____

3

Рассмотри карту мира. На ней буквами А и Б отмечены два материка.



3.1. Запиши название каждого материка в отведённое для этого поле.

Название материка (А):

Название материка (Б):

□

3.2. На следующей странице представлены фотографии *белого медведя*, *бобра*, *зебры* и *носорога*. Запиши название каждого из этих животных рядом с номером фотографии, на которой оно изображено.

□

1) _____ 2) _____

3) _____ 4) _____

3.3. Какие из этих животных обитают в естественной среде (не в зоопарке) на материке А, а какие – на материке Б? Запиши **номера** фотографий с изображением этих животных.

□

Ответ:


Материк	А	Б
Животные		



1)



2)



3)



4)

ИЛИ

3. Рассмотрни карту. На ней буквами А и Б отмечены две природные зоны.



Государственная граница Российской Федерации дана по состоянию на 01.01.2022 г.

3.1. Запиши название каждой природной зоны в отведённое для этого поле.

Название природной зоны (А): _____ Название природной зоны (Б): _____



3.2. На следующей странице представлены изображения фотографии *соболя*, *полярной совы*, *песца* и *бурого медведя*. Запиши название каждого из этих животных рядом с номером фотографии, на которой оно изображено.



1) _____ 2) _____
3) _____ 4) _____

3.3. Какие из этих животных обитают в естественной среде (не в зоопарке) на территории природной зоны А, а какие – природной зоны Б? Запиши **номера** фотографий с изображением этих животных в таблицу под соответствующими буквами.



Ответ:

Природная зона	А	Б
Животные		



1)



2)

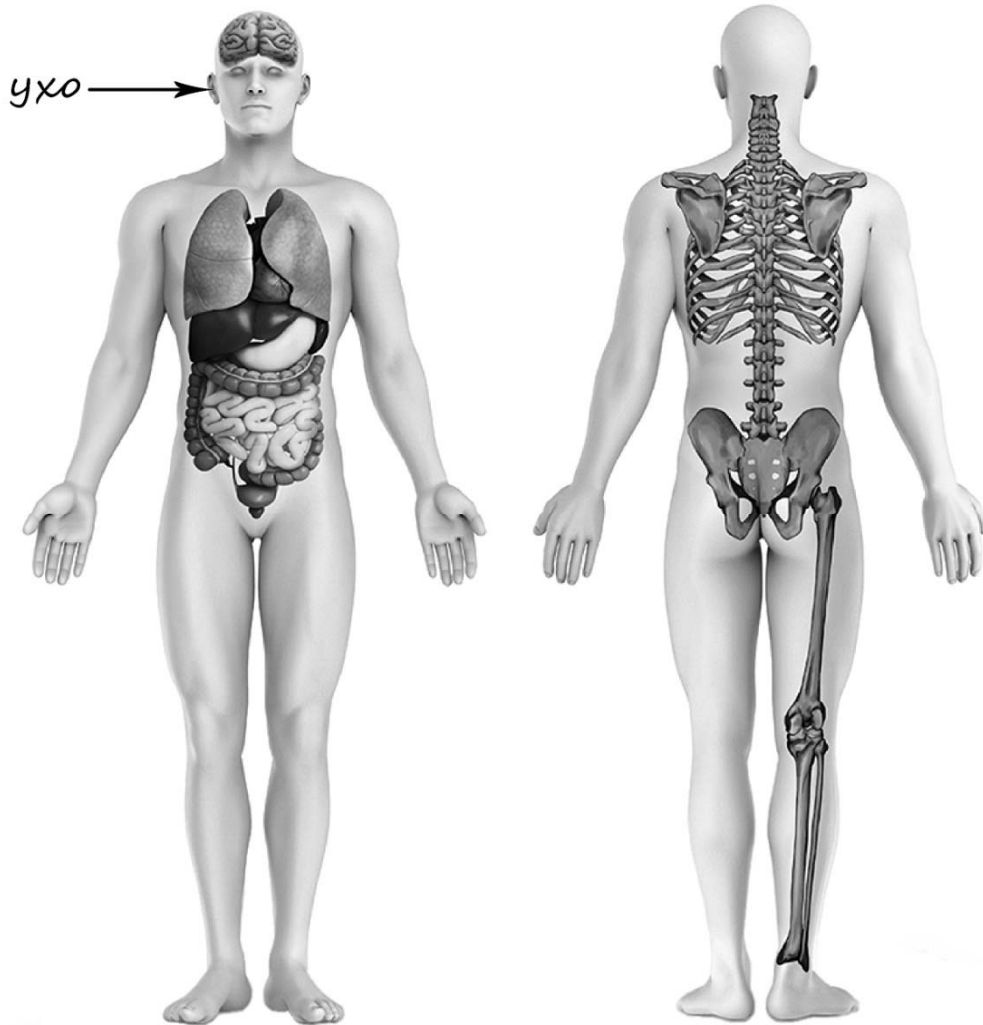


3)



4)

- 4) Рассмотрите изображение человека. Покажите стрелками и подпишите *голень*, *плечо* и *желудок* человека так, как показано на примере.



- 5) Составьте два правила сохранения здоровья человека из приведённых частей фраз: для этого к каждой позиции первого столбца подберите соответствующую позицию из второго столбца.

Начало фразы

Продолжение фразы

А) Чтобы избежать инфекции в полости рта,

1) нужно тепло одеваться.

Б) Чтобы не простудиться, выходя на улицу в холодную погоду,

2) нужно соблюдать режим дня.

3) нужно регулярно чистить зубы.

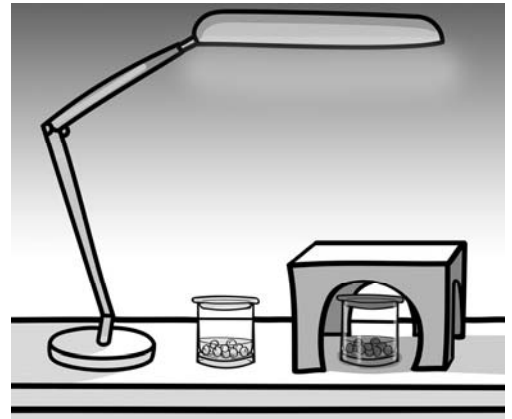
Запиши в таблицу выбранные цифры под соответствующими буквами.

Ответ:

Начало фразы	А	Б
Продолжение фразы		

6

Артём проводил наблюдения за прорастанием семян гороха и появившимися ростками. Чтобы выяснить, влияет ли освещённость на скорость прорастания, он взял два стакана, положил в каждый из них несколько одинаковых семян гороха и залил водой из одной бутылки так, чтобы семена были полностью в воде. Оба стакана Артём поставил на стол под лампу дневного освещения, но один из них заслонил от лампы картонной коробкой с вырезанными отверстиями. Затем Артём наблюдал за появляющимися в обоих стаканах ростками.



6.1. Сравни условия прорастания семян гороха в двух разных стаканах в описанном опыте. Подчеркни в каждой строке одно из выделенных слов.

Вид семян:

одинаковый / различный

Температура семян в двух стаканах:

одинаковая / различная

Освещённость семян в двух стаканах:

одинаковая / различная

6.2. Какие измерения и сравнения должен провести Артём, чтобы определить, влияет ли освещённость на скорость прорастания семян?

Ответ: _____

6.3. С помощью какого опыта Артём может выяснить, влияет ли наличие почвы в стакане на скорость прорастания семян? Опиши этот опыт.

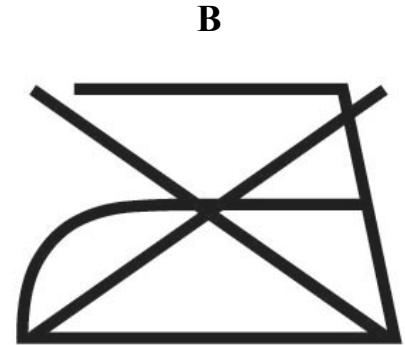
Ответ: _____

Часть 2

При выполнении заданий 7–10 последовательно отвечай на каждый из представленных вопросов. Ответы записывай чётко и разборчиво, соблюдая нормы речи.

7

Рассмотри знаки, изображённые на рисунках, и ответь на вопросы.



7.1. Какой из этих знаков можно встретить в музее?

Ответ:

Какое правило отражает этот знак?

Ответ: _____

7.2. Какие правила отражают два других знака? Запиши ответы в таблицу.

ЗНАК	ПРАВИЛО

8 На фотографиях изображены предметы, с которыми работают представители разных профессий. Выбери ОДНУ из фотографий и запиши букву, которой она обозначена.

Представители какой профессии работают с изображёнными на выбранной фотографии предметами? Если ты знаешь много профессий, представители которых работают с выбранным(-и) тобой предметом(-ами), назови любую из них. Какую работу выполняют люди этой профессии? Чем работа людей этой профессии полезна обществу?

А)



Б)



В)



Выбранная фотография:

Ответ: _____

ИЛИ

8 На фотографиях изображены предметы, с которыми работают представители одной из профессий.

Что это за профессия? Какую работу выполняют люди этой профессии? Чем работа людей этой профессии полезна обществу?



Ответ: _____

ИЛИ

8 На фотографиях изображены люди разных профессий за работой. Выбери ОДНУ из фотографий и запиши букву, которой она обозначена.

Представитель какой профессии изображён на выбранной фотографии? Какую работу выполняют люди этой профессии? Какие материалы / какое оборудование используют представители этой профессии в работе?

А)



Б)



В)



Выбранная фотография:

Ответ: _____



9

День матери – международный праздник в честь матерей. В России его официально отмечают в последнее воскресенье ноября.

2023

Январь							Февраль							Март							Апрель						
ПН	ВТ	СР	ЧТ	ПТ	СБ	ВС	ПН	ВТ	СР	ЧТ	ПТ	СБ	ВС	ПН	ВТ	СР	ЧТ	ПТ	СБ	ВС	ПН	ВТ	СР	ЧТ	ПТ	СБ	ВС
						1			1	2	3	4	5			1	2	3	4	5						1	2
2	3	4	5	6	7	8	6	7	8	9	10	11	12	6	7	8	9	10	11	12	3	4	5	6	7	8	9
9	10	11	12	13	14	15	13	14	15	16	17	18	19	13	14	15	16	17	18	19	10	11	12	13	14	15	16
16	17	18	19	20	21	22	20	21	22	23	24	25	26	20	21	22	23	24	25	26	17	18	19	20	21	22	23
23	24	25	26	27	28	29	27	28	27	28	29	30	31	24	25	26	27	28	29	30	24	25	26	27	28	29	30
30	31																										

Май							Июнь							Июль							Август								
ПН	ВТ	СР	ЧТ	ПТ	СБ	ВС	ПН	ВТ	СР	ЧТ	ПТ	СБ	ВС	ПН	ВТ	СР	ЧТ	ПТ	СБ	ВС	ПН	ВТ	СР	ЧТ	ПТ	СБ	ВС		
						1				1	2	3	4						1	2			1	2	3	4	5	6	
8	9	10	11	12	13	14	5	6	7	8	9	10	11	3	4	5	6	7	8	9	7	8	9	10	11	12	13		
15	16	17	18	19	20	21	12	13	14	15	16	17	18	10	11	12	13	14	15	16	14	15	16	17	18	19	20		
22	23	24	25	26	27	28	19	20	21	22	23	24	25	17	18	19	20	21	22	23	21	22	23	24	25	26	27		
29	30	31	26	27	28	29	30	24	25	26	27	28	29	30	28	29	30	31	28	29	30	31							

Сентябрь							Октябрь							Ноябрь							Декабрь										
ПН	ВТ	СР	ЧТ	ПТ	СБ	ВС	ПН	ВТ	СР	ЧТ	ПТ	СБ	ВС	ПН	ВТ	СР	ЧТ	ПТ	СБ	ВС	ПН	ВТ	СР	ЧТ	ПТ	СБ	ВС				
					1	2	3						1			1	2	3	4	5					1	2	3				
4	5	6	7	8	9	10	2	3	4	5	6	7	8	6	7	8	9	10	11	12	4	5	6	7	8	9	10				
11	12	13	14	15	16	17	9	10	11	12	13	14	15	13	14	15	16	17	18	19	11	12	13	14	15	16	17				
18	19	20	21	22	23	24	16	17	18	19	20	21	22	20	21	22	23	24	25	26	18	19	20	21	22	23	24				
25	26	27	28	29	30	31	23	24	25	26	27	28	29	27	28	29	30	25	26	27	28	29	30	31	25	26	27	28	29	30	31

Обведи эту дату в календаре.

Запиши, на какое число приходится этот день в 2023 году.

Ответ: _____

Как ты думаешь, почему этот день важен для каждого человека? (Напиши ответ объёмом до пяти предложений.)

Ответ: _____

10 10.1. Запиши название региона: республики, или области, или края, или города, или автономного округа, в котором ты живёшь.

Ответ: _____

Как называется главный город твоего региона / район, в котором ты живёшь?

Ответ: _____

10.2. Производством каких товаров известен твой регион?

Ответ: _____

Какие памятники природы или памятники истории и культуры находятся в твоём регионе? Расскажи об одном из этих памятников.

Ответ: _____

Система оценивания проверочной работы

Оценивание кратких ответов на задания 2, 3.1-3.3, 5, 6.1, 6.2

Правильный ответ на каждое из заданий 3.1, 5, 6.1 и 6.2 оценивается 1 баллом.

Полный правильный ответ на каждое из заданий 2, 3.2 оценивается 2 баллами. Если в ответе допущена одна ошибка (в том числе написана лишняя цифра, или не написана одна необходимая цифра, или не указано название объекта, изображённого на одной из представленных фотографий), выставляется 1 балл; если допущено две или более ошибки – 0 баллов.

Полный правильный ответ на задание 3.3 оценивается 3 баллами. Если в ответе допущена одна ошибка (в том числе написана лишняя цифра или не написана необходимая цифра), выставляется 2 балла; если допущено две ошибки – 1 балл, более двух ошибок – 0 баллов.

Номер задания	Правильный ответ	
2	24 (в любой последовательности)	
3.1	А – Африка; Б – Евразия	А – тундра; Б – тайга
3.2	1) носорог; 2) белый медведь; 3) зебра; 4) бобр	1) соболь; 2) полярная сова; 3) песок; 4) бурый медведь
3.3	А (Африка) – 13 или 31; Б (Евразия) – 24 или 42	А (тундра) – 23 или 32; Б (тайга) – 14 или 41
5	31	
6.1	вид семян одинаковый, температура одинаковая, освещённость различная	
6.2	необходимо измерять и сравнивать длины ростков в двух стаканах (Может быть дана иная формулировка ответа, не искажающая его смысла.)	

Указания к оцениванию ответов на задания 1, 4, 6.3-10

1

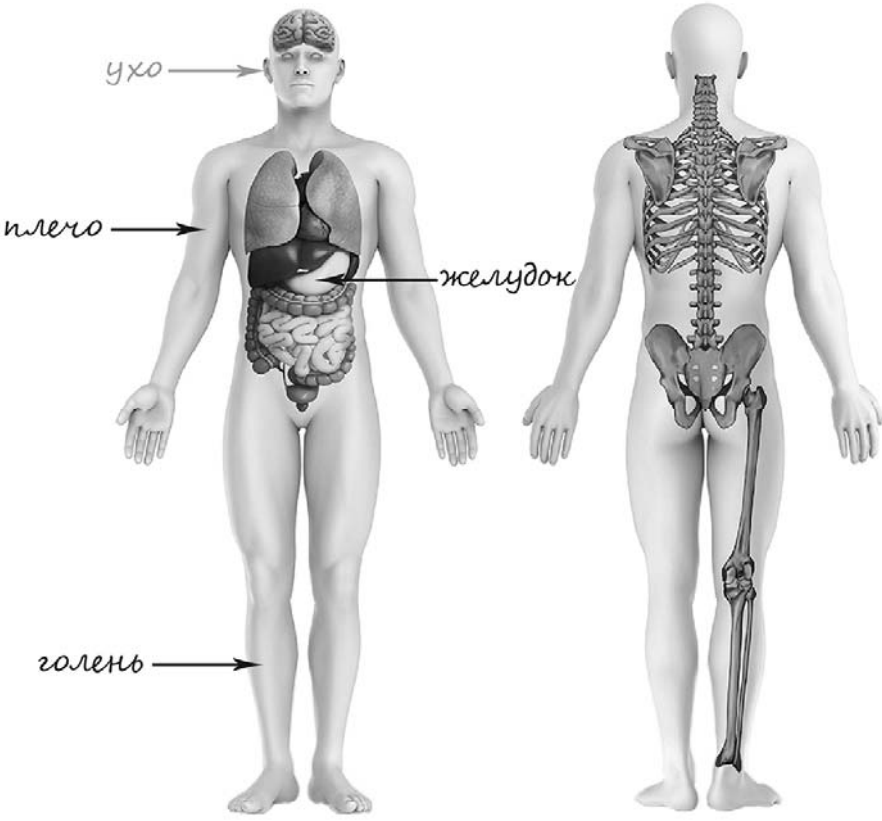
Рассмотри рисунок, на котором изображён кабинет врача. Стол может быть изготовлен из дерева. Он отмечен на рисунке стрелкой с соответствующей надписью.

Покажи на рисунке стрелкой любой предмет (любую деталь) из металла и любой предмет (любую деталь) из стекла. Подпиши название соответствующего материала рядом с каждой стрелкой.

Содержание верного ответа и указания к оцениванию	Баллы
<p>Один из возможных вариантов ответа:</p>  <p>В качестве правильного ответа должно быть засчитано указание на рисунке любых других предметов (деталей), если они могут быть сделаны из соответствующих материалов. При оценивании засчитывается только указание предмета (детали) с подписью соответствующего материала, из которого предмет (деталь) сделан(-а)</p>	
Правильно указано по одному предмету (детали) из каждого материала с соответствующими подписями	2
Правильно указан(-ы) предмет(-ы) (деталь(-и)) только из одного материала с соответствующей подписью, предметы (детали) из другого материала указаны неверно или не указаны	1
Предмет(-ы) (деталь(-и)) отмечены стрелками, но не подписаны. ИЛИ Не указано верно ни одного предмета (детали)	0
<i>Максимальный балл</i>	2

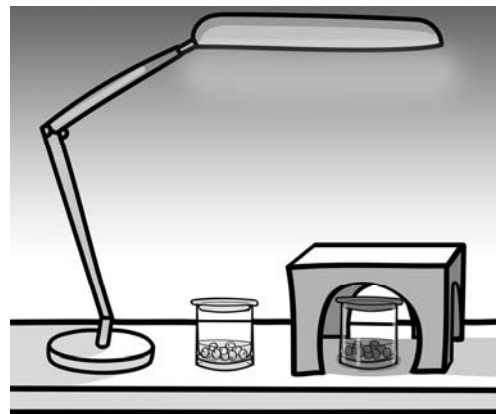
4

Рассмотри изображение человека. Покажи стрелками и подпиши *голень*, *плечо* и *желудок* человека так, как показано на примере.

Содержание верного ответа и указания к оцениванию	Баллы
 <p>При оценивании засчитывается только указание части тела (органа) с соответствующей подписью. Для парных частей тела (органов) достаточно указать одну из этих частей тела (один из органов)</p>	
Правильно указаны две части тела и орган / два органа и часть тела с соответствующими подписями	2
Правильно указаны две части тела / два органа с соответствующими подписями	1
Правильно указана только одна любая часть тела / только один любой орган с соответствующей подписью. ИЛИ Части (часть) тела и органы (орган) указаны неправильно. ИЛИ Части (часть) тела и органы (орган) отмечены стрелками, но не подписаны. ИЛИ Части (часть) тела и органы (орган) не указаны	0
<i>Максимальный балл</i>	2

6

Артём проводил наблюдения за прорастанием семян гороха и появившимися ростками. Чтобы выяснить, влияет ли освещённость на скорость прорастания, он взял два стакана, положил в каждый из них несколько одинаковых семян гороха и залил водой из одной бутылки так, чтобы семена были полностью в воде. Оба стакана Артём поставил на стол под лампу дневного освещения, но один из них заслонил от лампы картонной коробкой с вырезанными отверстиями. Затем Артём наблюдал за появляющимися в обоих стаканах ростками.




6.3. С помощью какого опыта Артём может выяснить, влияет ли наличие почвы в стакане на скорость прорастания семян? Опиши этот опыт.

Содержание верного ответа и указания к оцениванию	Баллы
В ответе может быть дано такое <u>описание опыта</u> . В один стакан нужно насыпать немного семян и залить их водой, в другой стакан – семян и земли и полить их водой. Стаканы поставить рядом, чтобы были одинаковая освещённость и одинаковая температура. Может быть дано иное, близкое по смыслу описание опыта	
В описании опыта верно отражены: – различия в условиях проращивания семян (в одном из стаканов должна быть земля, в другом нет); – сходства в условиях проращивания семян по влажности, температуре и освещённости	2
В описании опыта верно отражены только различия в условиях проращивания семян (в одном из стаканов должна быть земля, в другом нет)	1
В описании опыта не отражены / неверно отражены различия в условиях проращивания семян (в одном из стаканов должна быть земля, в другом нет). ИЛИ Описание опыта не приведено	0
<i>Максимальный балл</i>	2

7

Рассмотри знаки, изображённые на рисунках, и ответь на вопросы.



7.1. Какой из этих знаков можно встретить в музее?

Какое правило отражает этот знак?

Содержание верного ответа и указания к оцениванию	Баллы
Правильный ответ должен содержать следующие <u>элементы</u> : 1) <u>указание знака</u> : Б; 2) <u>правило</u> : В данном помещении / в музее запрещено фотографировать. Правило может быть приведено в иной, близкой по смыслу формулировке. <i>В качестве верного ответа может быть принята не только строгая формулировка правила, но и любое объяснение, свидетельствующее о том, что обучающийся понимает соответствующее правило</i>	
Верно указан знак, сформулировано правило	1
Верно указан знак, правило не сформулировано / сформулировано неверно. ИЛИ Знак не указан независимо от формулировки правила. ИЛИ Ответ неверный	0
<i>Максимальный балл</i>	<i>1</i>

7.2. Какие правила отражают два других знака? Запиши ответы в таблицу.

Содержание верного ответа и указания к оцениванию	Баллы
Правильный ответ должен содержать заполненную таблицу с указанием <u>знаков и правил</u> , которые отражает каждый знак. А – Здесь следует переходить дорогу по пешеходному переходу. / Здесь расположен пешеходный переход. В – Эту вещь нельзя гладить. Правила могут быть приведены в иных, близких по смыслу формулировках. <i>В качестве верного ответа может быть принята не только строгая формулировка правила, но и любое объяснение, свидетельствующее о том, что обучающийся понимает соответствующее правило</i>	
Верно указано два знака, сформулировано два правила	2
Верно указано два знака, сформулировано только одно любое правило. ИЛИ Верно указан только один знак, сформулировано правило, которое он отражает	1
Не сформулировано верно ни одного правила независимо от указания знаков. ИЛИ Ответ неверный	0
<i>Максимальный балл</i>	<i>2</i>

8

На фотографиях изображены предметы, с которыми работают представители разных профессий. Выбери ОДНУ из фотографий и запиши букву, которой она обозначена. Представители какой профессии работают с изображёнными на выбранной фотографии предметами? Если ты знаешь много профессий, представители которых работают с выбранным(-и) тобой предметом(-ами), назови любую из них. Какую работу выполняют люди этой профессии? Чем работа людей этой профессии полезна обществу?

А)



Б)



В)



Критерии и указания к оцениванию		Баллы
К1	Определение профессии	1
	Правильно определена профессия (выбранное обучающимся изображение связано с названной им профессией). <i>При оценивании как правильный ответ засчитываются допустимые названия любого уровня конкретизации (например, рабочий, строитель, маляр)</i>	1
	Профессия не определена в явном виде / определена неправильно	0
	<i>Если профессия в явном виде не определена / определена неправильно и по критерию К1 выставлен 0 баллов, то по всем остальным позициям оценивания выставляется 0 баллов</i>	
К2	Пояснение характера работы	1
	<i>При оценивании объём пояснения не учитывается; краткое пояснение, правильное по существу, может быть оценено максимальным баллом по данному критерию.</i>	
	Правильно пояснено, какую работу выполняют представители выбранной профессии	1
	Пояснение о том, какую работу выполняют представители выбранной профессии, отсутствует. ИЛИ Ответ неправильный	0
К3	Объяснение пользы для общества	1
	<i>При оценивании в качестве правильного ответа может быть принято объяснение в любом объёме. Главное – конкретизация объяснения применительно к выбранной профессии.</i>	
	Дано уместное объяснение того, чем работа людей выбранной профессии полезна обществу	1
	Приведены рассуждения общего характера, не связанные с общественной значимостью конкретной профессии. ИЛИ Ответ неправильный	0
<i>Максимальный балл</i>		3

ИЛИ

8

На фотографиях изображены предметы, с которыми работают представители одной из профессий.

Что это за профессия? Какую работу выполняют люди этой профессии? Чем работа людей этой профессии полезна обществу?



Критерии и указания к оцениванию		Баллы
К1	Определение профессии	1
	Правильно определена профессия. <i>При оценивании как правильный ответ засчитываются допустимые названия любого уровня конкретизации (например, рабочий, строитель, маляр)</i>	1
	Профессия не определена в явном виде / определена неправильно	0
	<i>Если профессия в явном виде не определена / определена неправильно и по критерию К1 выставлен 0 баллов, то по всем остальным позициям оценивания выставляется 0 баллов</i>	
К2	Пояснение характера работы	1
	<i>При оценивании объём пояснения не учитывается; краткое пояснение, правильное по существу, может быть оценено максимальным баллом по данному критерию.</i>	
	Правильно пояснено, какую работу выполняют представители выбранной профессии	1
	Пояснение о том, какую работу выполняют представители выбранной профессии, отсутствует. ИЛИ Ответ неправильный	0
К3	Объяснение пользы для общества	1
	<i>При оценивании в качестве правильного ответа может быть принято объяснение в любом объёме. Главное – конкретизация объяснения применительно к выбранной профессии.</i>	
	Дано уместное объяснение того, чем работа людей выбранной профессии полезна обществу	1
	Приведены рассуждения общего характера, не связанные с общественной значимостью конкретной профессии. ИЛИ Ответ неправильный	0
<i>Максимальный балл</i>		3

ИЛИ

8

На фотографиях изображены люди разных профессий за работой. Выбери ОДНУ из фотографий и запиши букву, которой она обозначена.

Представитель какой профессии изображён на выбранной фотографии? Какую работу выполняют люди этой профессии? Какие материалы / какое оборудование используют представители этой профессии в работе?

А)



Б)



В)



Критерии и указания к оцениванию		Баллы
К1	Определение профессии	1
	Правильно определена профессия (выбранное обучающимся изображение связано с названной им профессией). <i>При оценивании как правильный ответ засчитываются допустимые названия любого уровня конкретизации (например, рабочий, строитель, маляр)</i>	1
	Профессия не определена в явном виде / определена неправильно	0
	<i>Если профессия в явном виде не определена / определена неправильно и по критерию К1 выставлен 0 баллов, то по всем остальным позициям оценивания выставляется 0 баллов</i>	
К2	Пояснение характера работы	1
	<i>При оценивании объём пояснения не учитывается; краткое пояснение, правильное по существу, может быть оценено максимальным баллом по данному критерию.</i>	
	Правильно пояснено, какую работу выполняют представители выбранной профессии	1
	Пояснение о том, какую работу выполняют представители выбранной профессии, отсутствует. ИЛИ Ответ неправильный	0
К3	Указание материалов / оборудования	1
	<i>При оценивании в качестве правильного ответа может быть принято указание материалов и/или оборудования в любом объёме.</i>	
	Правильно указаны материалы и/или оборудование, используемые(-ое) в работе представителями выбранной профессии	1
	Ответ неправильный	0
<i>Максимальный балл</i>		3

9

День матери – международный праздник в честь матерей. В России его официально отмечают в последнее воскресенье ноября.

2023

Январь							Февраль							Март							Апрель							
ПН	ВТ	СР	ЧТ	ПТ	СБ	ВС	ПН	ВТ	СР	ЧТ	ПТ	СБ	ВС	ПН	ВТ	СР	ЧТ	ПТ	СБ	ВС	ПН	ВТ	СР	ЧТ	ПТ	СБ	ВС	
						1			1	2	3	4	5			1	2	3	4	5							1	2
2	3	4	5	6	7	8	6	7	8	9	10	11	12	6	7	8	9	10	11	12	3	4	5	6	7	8	9	
9	10	11	12	13	14	15	13	14	15	16	17	18	19	13	14	15	16	17	18	19	10	11	12	13	14	15	16	
16	17	18	19	20	21	22	20	21	22	23	24	25	26	20	21	22	23	24	25	26	17	18	19	20	21	22	23	
23	24	25	26	27	28	29	27	28	27	28	29	30	31	24	25	26	27	28	29	30	24	25	26	27	28	29	30	
30	31																											

Май							Июнь							Июль							Август							
ПН	ВТ	СР	ЧТ	ПТ	СБ	ВС	ПН	ВТ	СР	ЧТ	ПТ	СБ	ВС	ПН	ВТ	СР	ЧТ	ПТ	СБ	ВС	ПН	ВТ	СР	ЧТ	ПТ	СБ	ВС	
1	2	3	4	5	6	7				1	2	3	4						1	2			1	2	3	4	5	6
8	9	10	11	12	13	14	5	6	7	8	9	10	11	3	4	5	6	7	8	9	7	8	9	10	11	12	13	
15	16	17	18	19	20	21	12	13	14	15	16	17	18	10	11	12	13	14	15	16	14	15	16	17	18	19	20	
22	23	24	25	26	27	28	19	20	21	22	23	24	25	17	18	19	20	21	22	23	21	22	23	24	25	26	27	
29	30	31	26	27	28	29	30	24	25	26	27	28	29	30	24	25	26	27	28	29	30	28	29	30	31			

Сентябрь							Октябрь							Ноябрь							Декабрь										
ПН	ВТ	СР	ЧТ	ПТ	СБ	ВС	ПН	ВТ	СР	ЧТ	ПТ	СБ	ВС	ПН	ВТ	СР	ЧТ	ПТ	СБ	ВС	ПН	ВТ	СР	ЧТ	ПТ	СБ	ВС				
				1	2	3							1			1	2	3	4	5						1	2	3			
4	5	6	7	8	9	10	2	3	4	5	6	7	8	6	7	8	9	10	11	12	4	5	6	7	8	9	10				
11	12	13	14	15	16	17	9	10	11	12	13	14	15	13	14	15	16	17	18	19	11	12	13	14	15	16	17				
18	19	20	21	22	23	24	16	17	18	19	20	21	22	20	21	22	23	24	25	26	18	19	20	21	22	23	24				
25	26	27	28	29	30	31	23	24	25	26	27	28	29	27	28	29	30	25	26	27	28	29	30	31	25	26	27	28	29	30	31
							30	31																							

Обведи эту дату в календаре.

Запиши, на какое число приходится этот день в 2023 году.

Как ты думаешь, почему этот день важен для каждого человека? (Напиши ответ объёмом до пяти предложений.)

Критерии и указания по оцениванию		Баллы
К1	Отметка дня в календаре	1
	День в календаре отмечен верно	1
	День в календаре отмечен неверно / не отмечен	0
К2	Запись даты	1
	Дата записана верно	1
	Дата записана неверно / не записана	0
К3	Ответ на вопрос	1
	Дан уместный ответ на вопрос, в котором в общей форме или на примере(-ах) показана хотя бы одна причина / приведено хотя бы одно обоснование	1
	В ответе наряду с верными имеются ошибочные суждения или рассуждения общего характера / ответ не относится к заданию	0
<i>Максимальный балл</i>		3

10

10.1. Запиши название региона: республики, или области, или края, или города, или автономного округа, в котором ты живёшь.

Как называется главный город твоего региона / район, в котором ты живёшь?

Указания к оцениванию		Баллы
Правильно указаны название региона и его главный город / название региона и район		2
Правильно указано только название региона. ИЛИ Правильно указан только главный город региона / район (принимается указание любого крупного города, находящегося в регионе)		1
Ответ неправильный		0
<i>Максимальный балл</i>		2

10.2. Производством каких товаров известен твой регион?

Какие памятники природы или памятники истории и культуры находятся в твоём регионе?

Расскажи об одном из этих памятников.

Критерии и указания к оцениванию		Баллы
К1	Указание товаров, производством которых известен регион	1
	Правильно указан(-ы) товар(-ы), производством которого(-ых) известен регион	1
	Товар(-ы), производством которого(-ых) известен регион, не указан(-ы) или указан(-ы) неправильно	0
К2	Название памятника природы или памятника истории и культуры региона	1
	Памятник(-и) природы или истории и культуры назван(-ы) правильно	1
	Памятник(-и) природы или истории и культуры не назван(-ы) или назван(-ы) неправильно	0
К3	Рассказ о памятнике природы или памятнике культуры	2
	Рассказ наряду с впечатлениями от посещения памятника, просмотра фильмов о нём и т.п. содержит основные сведения о нём. Фактических ошибок нет	2
	Рассказ наряду с впечатлениями от посещения памятника, просмотра фильмов о нём и т.п. содержит основные сведения о нём; в рассказе допущены фактические ошибки. ИЛИ Рассказ содержит только впечатления от посещения памятника	1
	Приведены рассуждения общего характера, не соответствующие требованию задания. ИЛИ Ответ неправильный	0
	<i>Максимальный балл</i>	

Система оценивания выполнения всей работы

Максимальный первичный балл за выполнение работы – 32.

Рекомендации по переводу первичных баллов в отметки по пятибалльной шкале

Отметка по пятибалльной шкале	«2»	«3»	«4»	«5»
Первичные баллы	0–7	8–17	18–26	27–32

**Проверочная работа
по РУССКОМУ ЯЗЫКУ**

4 КЛАСС

Образец

Пояснение к образцу проверочной работы

На выполнение работы по русскому языку даётся 90 минут. Работа состоит из двух частей и включает в себя 15 заданий.

Задания частей 1 и 2 выполняются в разные дни. На выполнение заданий части 1 отводится 45 минут. На выполнение заданий части 2 отводится также 45 минут.

При выполнении работы не разрешается пользоваться учебником, рабочими тетрадями, справочниками по грамматике, орфографическими словарями, другими справочными материалами.

При необходимости можно пользоваться черновиком. Записи в черновике проверяться и оцениваться не будут.

Заполняется учителем, экспертом или техническим специалистом

Обратите внимание: в случае, если какие-либо задания не могли быть выполнены целым классом по причинам, связанным с отсутствием соответствующей темы в реализуемой школой образовательной программе, в форме сбора результатов ВПР всем обучающимся класса за данное задание вместо балла выставляется значение «Тема не пройдена». В соответствующие ячейки таблицы заполняется н/п.

Таблица для внесения баллов участника

Номер задания	Часть 1					Часть 2										Сумма баллов	Отметка за работу								
	1К1	1К2	2	3(1)	3(2)	4	5	6	7	8	9	10	11	12(1)	12(2)			13(1)	13(2)	14	15(1)	15(2)			
Баллы																									

Инструкция по выполнению заданий части 1 проверочной работы

На выполнение заданий части 1 проверочной работы по русскому языку даётся 45 минут. Часть 1 включает в себя 3 задания.

Ответы на задания запиши в работе на отведённых для этого строчках. Если ты хочешь изменить ответ, то зачеркни его и запиши рядом новый.

При выполнении работы не разрешается пользоваться учебником, рабочими тетрадями, справочниками по грамматике, орфографическими словарями, другими справочными материалами.

При необходимости можно пользоваться черновиком. Записи в черновике проверяться и оцениваться не будут.

Советуем выполнять задания в том порядке, в котором они даны. Для экономии времени пропускай задание, которое не удаётся выполнить сразу, и переходи к следующему. Постарайся выполнить как можно больше заданий.

Желаем успеха!

Часть 1

Диктант

1

Запиши текст под диктовку.

Blank writing area with horizontal lines for dictation.



2) **Найди** в тексте предложение с однородными сказуемыми. **Выпиши** это предложение и **подчеркни** в нём однородные сказуемые.

Ответ. _____

3) **Выпиши** из текста 6-е предложение.

Ответ. _____

1) **Подчеркни** в нём главные члены.

2) Над каждым словом **напиши**, какой частью речи оно является.

Инструкция по выполнению заданий части 2 проверочной работы

На выполнение заданий части 2 проверочной работы по русскому языку даётся 45 минут. Часть 2 включает в себя 12 заданий.

Ответы на задания запиши в работе на отведённых для этого строчках. Если ты хочешь изменить ответ, то зачеркни его и запиши рядом новый.

При выполнении работы не разрешается пользоваться учебником, рабочими тетрадями, справочниками по грамматике, орфографическими словарями, другими справочными материалами.

При необходимости можно пользоваться черновиком. Записи в черновике проверяться и оцениваться не будут.

Советуем выполнять задания в том порядке, в котором они даны. Для экономии времени пропускай задание, которое не удаётся выполнить сразу, и переходи к следующему. Постарайся выполнить как можно больше заданий.

Желаем успеха!

Часть 2

- 4 Произнеси данные ниже слова, **поставь** в них **знак ударения** над ударными гласными.

Алфавит, брала, занята, километр.

- 5 В данном ниже предложении **найди** слово, в котором все согласные звуки звонкие. **Выпиши** это слово.

По скатам оврага журчат звонкие ручьи.

Ответ. _____

Прочитай текст и выполни задания 6–14. Запиши ответы на отведённых для этого строчках.

(1)В мире существует много необычных, удивительных памятников. (2)Есть они и в России, вот, например, памятник букве «ё» в Ульяновске. (3)Раньше этот город назывался Симбирском, в нём родился известный русский писатель Николай Михайлович Карамзин, который придумал букву «ё». (4)Он предложил поставить над буквой «е» две точки. (5)До изобретения буквы «ё» писали или «ио», или просто «е».

(6)В Псковской области, неподалёку от усадьбы Михайловское, где жил в ссылке Александр Сергеевич Пушкин, поставили памятник зайцу. (7)Монумента заяц удостоился за то, что ... спас великого русского поэта.

(8)Произошло это так. (9)Пушкин решил самовольно покинуть северную деревню и тайно приехать в столицу – Петербург, чтобы повидать друзей. (10)Он ехал на санях, и вдруг дорогу ему перебежал заяц. (11)Это было плохой приметой. (12)Суеверный поэт сразу же вернулся домой. (13)А в это время в Петербурге дворяне (и среди них друзья Пушкина) пытались поднять восстание против царя. (14)Не будь зайца, поэт наверняка присоединился бы к бунтовщикам и скорее всего погиб бы. (15)Псковичи считают, что заяц сохранил Пушкину жизнь, вот и отметили его заслуги памятником.

(По Е.В. Широкиной)

6

Что хотел сказать автор читателю? **Определи и запиши основную мысль текста.**

Ответ. _____

7 **Составь и запиши** план текста из трёх пунктов. В ответе ты можешь использовать сочетания слов или предложения.

Ответ.

1. _____

2. _____

3. _____

8 **Задай** по тексту вопрос, который поможет определить, насколько точно твои одноклассники поняли его содержание. **Запиши** свой вопрос.

Ответ. _____

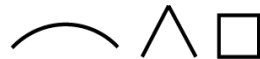
9 Как ты понимаешь значение слова «столица» («в столицу») из 9-го предложения? **Запиши** своё объяснение.

Ответ. Столица – это _____

- 10 **Замени** слово «известный» из 3-го предложения близким по значению словом. **Запиши** это слово.

Ответ. Известный – _____

- 11 В 1-м предложении **найди** слово, состав которого соответствует схеме:



Выпиши это слово, **обозначь** его части.

Ответ. _____

- 12 **Выпиши** из 7-го предложения все имена существительные в той форме, в которой они употреблены в предложении. **Укажи** род, склонение, число, падеж одной из форм имени существительного (на выбор).

Ответ. _____

- 13 **Выпиши** из 1-го предложения все формы имён прилагательных с именами существительными, к которым они относятся. **Укажи** число, род (если есть), падеж одной из форм имени прилагательного (на выбор).

Ответ. _____

- 14 Выпиши из 3-го предложения все глаголы в той форме, в которой они употреблены в предложении.

Ответ. _____

- 15 Подумай и напиши, в какой жизненной ситуации уместно будет употребить выражение *Любишь кататься – люби и саночки возить*.

Ответ. Выражение *Любишь кататься – люби и саночки возить* будет уместно
 в ситуации, когда

Методика проведения диктанта

Текст диктанта читается три раза.

I. Целевая установка на аудирование

- Учитель медленно и выразительно читает весь текст диктанта в соответствии с произносительными нормами русского языка. Чтение не должно быть орфографическим, «подсказывающим».
- Обучающиеся слушают.
- На данном этапе возможно выявление и объяснение лексического значения незнакомых обучающимся слов (целесообразно спросить у обучающихся, все ли слова им понятны).

II. Целевая установка на письмо под диктовку

- Текст диктанта читается по отдельным предложениям. Учитель читает предложение. Обучающиеся слушают. Обучающиеся приступают к записи предложения только после того, как оно прочитано учителем до конца. Учитель диктует предложение для записи, при необходимости разделяя его на небольшие смысловые отрезки.
- Обучающиеся записывают.
- Диктуя предложение, учитель выдерживает равномерный темп, спокойный тон, предупреждая тем самым отставание в письме. При этом важно читать громко и внятно, чётко произнося слова.
- Учитель может сообщить обучающимся о постановке неизученного пунктуационного знака тире в предложении, а также при диктовке слов с не изучаемыми в начальной школе орфограммами использовать орфографическое проговаривание.

III. Целевая установка на самопроверку

- По окончании записи всего текста учитель читает его снова целиком от начала до конца, делая паузы между отдельными предложениями.
- Обучающиеся проверяют написанное.

! По завершении диктанта учителю необходимо прочитать вслух предложение, на основе которого выполняется задание 3.

Текст диктанта

Весеннее солнышко согревает землю. Раздаются радостные песни жаворонков. Высоко взлетают голосистые певцы и поют в небесной сини. В саду, в роще звенят на все лады зяблики. Звонкой трелью наполняют весенний лес дрозды. Они поют в дружном хоре лесных птиц. Но нет среди них главного певца. Соловей пока не прилетел.

Но вот появилась серенькая птичка с чёрными глазками. Ростом она чуть больше воробья. И полилась соловьиная трель. Зазвучал гимн весне. У этой птички чудесный голос. И нет в мире голоса красивее!

(80 слов)

Система оценивания проверочной работы по русскому языку

Часть 1

При оценивании ответов допущенные обучающимися орфографические и пунктуационные **ошибки на не изучаемые** в начальной школе **правила не учитываются.**

1

Запиши текст под диктовку.

№	Содержание верного ответа и указания по оцениванию	Баллы
	<p>Весеннее солнышко согревает землю. Раздаются радостные песни жаворонков. Высоко взлетают голосистые певцы и поют в небесной сини. В саду, в роще звенят на все лады зяблики. Звонкой трелью наполняют весенний лес дрозды. Они поют в дружном хоре лесных птиц. Но нет среди них главного певца. Соловей пока не прилетел.</p> <p>Но вот появилась серенькая птичка с чёрными глазками. Ростом она чуть больше воробья. И полилась соловьиная трель. Зазвучал гимн весне. У этой птички чудесный голос. И нет в мире голоса красивее!</p> <p style="text-align: right;">(80 слов)</p>	
<p><i>Оценивается только полностью записанный текст диктанта. Возможен ненамеренный пропуск двух-трёх слов.</i></p> <p><i>Каждое пропущенное в тексте диктанта слово, содержащее орфограмму, квалифицируется как орфографическая ошибка.</i></p> <p><i>Если в тексте диктанта присутствует пять и более исправлений неверного написания на верное, то за выполнение задания снимается 1 балл</i></p>		
К1	Соблюдение орфографических норм	
	Орфографических ошибок нет (или допущена одна негрубая ошибка). Возможно наличие одного-двух исправлений неверного написания на верное в словах с орфограммами	4
	Допущено не более двух орфографических ошибок (в их числе возможна одна однотипная ошибка). Возможно наличие трёх исправлений неверного написания на верное в словах с орфограммами	3
	<p><i>Однотипными считаются ошибки на одно правило, если условия выбора написания заключены в грамматических (в роще, в поле; колют, борются) и фонетических (шило, жизнь; чаща, чайник) особенностях данного слова.</i></p> <p><i>Не считаются однотипными ошибки на такое правило, в котором для выяснения правильного написания одного слова требуется подобрать другое слово или его форму (вода – воды; рот – ротик; головка – голова; устный – уста).</i></p> <p><i>Первые три однотипные ошибки считаются за одну ошибку, каждая следующая подобная ошибка учитывается как самостоятельная</i></p>	
	Допущено три-четыре ошибки	2
	Допущено пять ошибок	1
	Допущено более пяти ошибок	0
К2	Соблюдение пунктуационных норм	
	Пунктуационных ошибок нет	3
	Допущена одна ошибка	2
	Допущено две ошибки	1
	Допущено более двух ошибок	0
<i>Максимальный балл</i>		7

2

Найди в тексте предложение с однородными сказуемыми. **Выпиши** это предложение и **подчеркни** в нём однородные сказуемые.

Содержание верного ответа и указания по оцениванию	Баллы
Высоко <u>взлетают</u> голосистые певцы и <u>поют</u> в небесной сини.	
<i>Ошибки, допущенные учеником в диктанте и воспроизведённые при переписывании предложения, не учитываются при оценивании выполнения данного задания</i>	
Верно найдено предложение, при переписывании отсутствуют ошибки, правильно обозначены однородные сказуемые	3
Верно найдено предложение, при переписывании допущена одна орфографическая или одна пунктуационная ошибка, правильно обозначены однородные сказуемые	2
Верно найдено предложение, при переписывании допущены одна-две орфографические и одна пунктуационная ошибки, или две орфографические ошибки при отсутствии пунктуационных, или две пунктуационные ошибки при отсутствии орфографических, правильно обозначены однородные сказуемые	1
Предложение найдено неверно. ИЛИ Верно найдено предложение, при переписывании отсутствуют ошибки, неправильно обозначены однородные сказуемые. ИЛИ Верно найдено предложение, при переписывании допущено более двух орфографических и одной пунктуационной ошибок, правильно обозначены однородные сказуемые	0
<i>Максимальный балл</i>	3

3

Выпиши из текста 6-е предложение.

1) **Подчеркни** в нём главные члены.

Содержание верного ответа и указания по оцениванию	Баллы
<u>Они поют</u> в дружном хоре лесных птиц.	
Верно обозначены главные члены предложения	1
Верно обозначен только один главный член предложения. ИЛИ Наряду с верным обозначением подлежащего и/или сказуемого теми же графическими знаками (соответственно одной или двумя чертами) подчеркнуты второстепенные члены (второстепенный член) предложения. ИЛИ Все главные члены предложения обозначены неверно / не обозначены	0
<i>Максимальный балл</i>	1

2) Над каждым словом **напиши**, какой частью речи оно является.

Содержание верного ответа и указания по оцениванию	Баллы
<p><i>мест. глаг. предлог прил. сущ. прил. сущ.</i> Они поют в дружном хоре лесных птиц.</p>	
<i>Отсутствие указания части речи над словом в записанном предложении приравнивается к ошибке</i>	
Верно определены все части речи в предложении	3
Допущена одна ошибка	2
Допущено две ошибки	1
Допущено более двух ошибок	0
<i>Максимальный балл</i>	<i>3</i>

Часть 2

! При оценивании ответов допущенные обучающимися орфографические и пунктуационные **ошибки на не изучаемые** в начальной школе **правила не учитываются.**

4) Произнеси данные ниже слова, **поставь** в них **знак ударения** над ударными гласными.

Содержание верного ответа и указания по оцениванию (допускаются иные формулировки ответа, не искажающие его смысла)	Баллы
<i>Алфавит, бралá, занятá, килоméтр</i>	
Верно поставлено ударение во всех словах	2
Верно поставлено ударение только в трёх словах	1
Верно поставлено ударение только в одном-двух словах. ИЛИ Ударение во всех словах поставлено неверно / не поставлено	0
<i>Максимальный балл</i>	<i>2</i>

5) В данном ниже предложении **найди** слово, в котором все согласные звуки звонкие. **Выпиши** это слово.

По скатам оврага журчат звонкие ручьи.

Содержание верного ответа и указания по оцениванию	Баллы
В правильном ответе должно быть выписано слово <i>оврага</i>	
Выписано правильное слово	1
Выписано несколько слов, в числе которых правильное. ИЛИ Выписано неправильное слово. ИЛИ Слово не выписано	0
<i>Максимальный балл</i>	<i>1</i>

Прочитай текст и выполни задания 6–14. Запиши ответы на отведённых для этого строчках.

(1)В мире существует много необычных, удивительных памятников. (2)Есть они и в России, вот, например, памятник букве «ё» в Ульяновске. (3)Раньше этот город назывался Симбирском, в нём родился известный русский писатель Николай Михайлович Карамзин, который придумал букву «ё». (4)Он предложил поставить над буквой «е» две точки. (5)До изобретения буквы «ё» писали или «ио», или просто «е».

(6)В Псковской области, неподалёку от усадьбы Михайловское, где жил в ссылке Александр Сергеевич Пушкин, поставили памятник зайцу. (7)Монумента заяц удостоился за то, что ... спас великого русского поэта.

(8)Произошло это так. (9)Пушкин решил самовольно покинуть северную деревню и тайно приехать в столицу – Петербург, чтобы повидать друзей. (10)Он ехал на санях, и вдруг дорогу ему перебежал заяц. (11)Это было плохой приметой. (12)Суеверный поэт сразу же вернулся домой. (13)А в это время в Петербурге дворяне (и среди них друзья Пушкина) пытались поднять восстание против царя. (14)Не будь зайца, поэт наверняка присоединился бы к бунтовщикам и скорее всего погиб бы. (15)Псковичи считают, что заяц сохранил Пушкину жизнь, вот и отметили его заслуги памятником.

(По Е.В. Широниной)

6

Что хотел сказать автор читателю? **Определи и запиши** основную мысль текста.

Содержание верного ответа и указания по оцениванию (допускаются иные формулировки ответа, не искажающие его смысла)	Баллы
<u>Основная мысль текста.</u> <i>В России есть много необычных, удивительных или забавных памятников.</i> Основная мысль текста может быть приведена в иной, близкой по смыслу формулировке	
Основная мысль определена верно, полно; предложение построено правильно (соблюдён порядок слов), в нём употреблены слова в свойственном им значении	2
Основная мысль определена верно, но недостаточно полно; предложение построено правильно (соблюдён порядок слов), в нём употреблены слова в свойственном им значении. ИЛИ Основная мысль определена верно, полно; в построении предложения и словоупотреблении допущено один-два недочёта. ИЛИ Основная мысль определена верно, но недостаточно полно; в построении предложения и словоупотреблении допущен один недочёт	1
Основная мысль определена верно, полно; в построении предложения и словоупотреблении допущено более двух недочётов. ИЛИ Основная мысль определена верно, но недостаточно полно; в построении предложения и словоупотреблении допущено два и более недочёта. ИЛИ Основная мысль не определена / определена неверно независимо от наличия/отсутствия недочётов в построении предложения и словоупотреблении	0
<i>Максимальный балл</i>	2

7

Составь и запиши план текста из трёх пунктов. В ответе ты можешь использовать сочетания слов или предложения.

Содержание верного ответа и указания по оцениванию (допускаются иные формулировки ответа, не искажающие его смысла)	Баллы
<p><u>Примерный план.</u></p> <ol style="list-style-type: none"> 1. Удивительный памятник букве «ё» в Ульяновске. 2. Памятник зайцу в Псковской области. 3. Как заяц спас жизнь А.С. Пушкину. 	
<p><i>В плане в той или иной форме должно быть последовательно представлено содержание текста. План можно записывать с использованием предложений или словосочетаний</i></p>	
<p>В плане последовательно отражено содержание текста; план состоит из трёх пунктов; словосочетания или предложения (пункты плана) построены правильно (с соблюдением порядка слов), в них употреблены слова в собственном им значении</p>	3
<p>В плане последовательно отражено содержание текста, план состоит из трёх пунктов, в построении словосочетаний или предложений (пунктов плана) и словоупотреблении допущено один-два недочёта</p>	2
<p>В плане последовательно отражено содержание текста, план состоит из трёх пунктов, в построении словосочетаний или предложений (пунктов плана) и словоупотреблении допущено более двух недочётов. ИЛИ В плане последовательно отражено содержание текста, план содержит только два корректных пункта, в построении словосочетаний или предложений (пунктов плана) и словоупотреблении допущено один-два недочёта. ИЛИ В плане нарушена последовательность содержания текста, план содержит не менее двух пунктов, в построении словосочетаний или предложений (пунктов плана) и словоупотреблении допущено один-два недочёта</p>	1
<p>План не соответствует условиям выставления 3, 2 и 1 балла, в том числе содержит только один корректный пункт. ИЛИ План не составлен</p>	0
<i>Максимальный балл</i>	3

8

Задай по тексту вопрос, который поможет определить, насколько точно твои одноклассники поняли его содержание. **Запиши** свой вопрос.

Содержание верного ответа и указания по оцениванию (допускаются иные формулировки ответа, не искажающие его смысла)	Баллы
Могут быть заданы следующие <u>вопросы по содержанию текста</u> . <i>Почему памятник букве «ё» поставлен в Ульяновске?</i> <i>Какую букву придумал русский писатель Н.М. Карамзин?</i> <i>Что писали вместо буквы «ё» до её изобретения?</i> <i>Где находится памятник зайцу?</i> Могут быть заданы другие вопросы, относящиеся к содержанию текста	
Вопрос относится к содержанию текста, предложение записано без орфографических и пунктуационных ошибок	2
Вопрос относится к содержанию текста, при записи предложения допущено не более двух орфографических и двух пунктуационных ошибок	1
Ответ на задание дан не в форме вопроса. ИЛИ Вопрос относится к содержанию текста, при записи предложения допущено более двух орфографических и двух пунктуационных ошибок либо три и более орфографические ошибки независимо от наличия/отсутствия пунктуационных ошибок. ИЛИ Вопрос не относится к содержанию текста независимо от наличия/отсутствия орфографических и пунктуационных ошибок. ИЛИ Ответ отсутствует	0
<i>Максимальный балл</i>	2

9

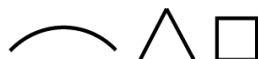
Как ты понимаешь значение слова «столица» («в столицу») из 9-го предложения? **Запиши** своё объяснение.

Содержание верного ответа и указания по оцениванию (допускаются иные формулировки ответа, не искажающие его смысла)	Баллы
В контексте указанного в задании предложения может быть дано такое <u>объяснение</u> . <i>Столица – это главный город государства.</i> Может быть дано иное, близкое по смыслу объяснение. В объяснении в той или иной форме в контексте указанного в задании предложения должно быть сформулировано значение слова	
Верно объяснено значение слова	1
Неверно объяснено значение слова. ИЛИ Объяснение значения слова не дано	0
<i>Максимальный балл</i>	1

- 10 **Замени** слово «известный» из 3-го предложения близким по значению словом. **Запиши** это слово.

Содержание верного ответа и указания по оцениванию (допускаются иные формулировки ответа, не искажающие его смысла)	Баллы
Правильный ответ может содержать один из следующих <u>синонимов</u> : <i>Известный – знаменитый, популярный, прославленный.</i> Могут быть подобраны другие синонимы	
Верно подобран синоним к данному слову	1
Не подобран синоним к данному слову	0
<i>Максимальный балл</i>	<i>1</i>

- 11 В 1-м предложении **найди** слово, состав которого соответствует схеме:



Выпиши это слово, **обозначь** его части.

Содержание верного ответа и указания по оцениванию	Баллы
В правильном ответе должно быть выписано <u>слово</u> и обозначены <u>его части</u> : памятн <u>ик</u> о <u>в</u>	
Выписано правильное слово, верно обозначены части слова	2
Выписано правильное слово, при обозначении частей слова допущена одна ошибка	1
Выписано правильное слово, при обозначении частей слова допущено две или более ошибки. ИЛИ Выписано неправильное слово / слово не выписано	0
<i>Максимальный балл</i>	<i>2</i>

12

Выпиши из 7-го предложения все имена существительные в той форме, в которой они употреблены в предложении. **Укажи** род, склонение, число, падеж одной из форм имени существительного (на выбор).

Содержание верного ответа и указания по оцениванию	Баллы
Правильный ответ должен содержать следующие <u>элементы</u> : 1) <u>формы имён существительных</u> : <i>монумента, заяц, поэта</i> ; 2) <u>морфологические признаки одной из форм</u> , например: монумента – м. р., 2-е скл., ед. ч., род. п.; заяц – м. р., 2-е скл., ед. ч., им. п.; поэта – м. р., 2-е скл., ед. ч., вин. п.	
Формы имён существительных	
Правильно выписаны все формы	1
Правильно выписаны только одна-две формы. ИЛИ Все формы выписаны неправильно / не выписаны	0
Морфологические признаки одной из форм	
Правильно указаны четыре признака	2
Правильно указаны только два-три признака	1
Правильно указан только один любой признак. ИЛИ Все признаки указаны неправильно / не указаны	0
<i>Максимальный балл</i>	3

13

Выпиши из 1-го предложения все формы имён прилагательных с именами существительными, к которым они относятся. **Укажи** число, род (если есть), падеж одной из форм имени прилагательного (на выбор).

Содержание верного ответа и указания по оцениванию	Баллы
Правильный ответ должен содержать следующие <u>элементы</u> : 1) <u>формы имён прилагательных</u> : <i>необычных (памятников), удивительных (памятников)</i> ; 2) <u>морфологические признаки одной из форм</u> , например: необычных (памятников) – мн. ч., род. п.; удивительных (памятников) – мн. ч., род. п.	
Формы имён прилагательных	
Правильно выписаны все формы	1
Правильно выписана только одна форма (из двух) или две формы (из трёх). ИЛИ Все формы выписаны неправильно / не выписаны	0
Морфологические признаки одной из форм	
Правильно указаны все признаки (из двух-трёх в зависимости от содержания конкретного задания)	2
Правильно указан только один любой признак (из двух) или два любых признака (из трёх). ИЛИ Правильно указаны два признака (из двух) наряду с ошибочным указанием рода во множественном числе	1
Все признаки указаны неправильно / не указаны	0
<i>Максимальный балл</i>	3

- 14 Выпиши из 3-го предложения все глаголы в той форме, в которой они употреблены в предложении.

Содержание верного ответа и указания по оцениванию (допускаются иные формулировки ответа, не искажающие его смысла)	Баллы
В правильном ответе должны быть выписаны следующие <u>формы глаголов</u> : <i>назывался, родился, придумал</i>	
Правильно выписаны все формы	1
Правильно выписаны только одна-две формы. ИЛИ Все формы выписаны неправильно / не выписаны	0
<i>Максимальный балл</i>	<i>1</i>

- 15 Подумай и напиши, в какой ситуации уместно будет употребить выражение *Любишь кататься – люби и саночки возить*.

Содержание верного ответа и указания по оцениванию (допускаются иные формулировки ответа, не искажающие его смысла)	Баллы
<u>Вариант ответа.</u> Выражение <i>Любишь кататься – люби и саночки возить</i> будет уместно в ситуации, когда мой младший брат после игры не хочет убирать за собой игрушки. Могут быть представлены другие жизненные ситуации, в которых возможно употребление указанного выражения	
<u>Толкование ситуации в заданном контексте</u>	
Выражение правильно истолковано в контексте представленной ситуации, представленная ситуация корректна с этической точки зрения	2
Выражение правильно истолковано в контексте представленной ситуации, выбор представленной ситуации неудачен с этической точки зрения	1
Выражение неправильно истолковано в контексте представленной ситуации, представленная ситуация корректна с этической точки зрения. ИЛИ Выражение правильно истолковано в контексте представленной ситуации, представленная ситуация некорректна с этической точки зрения. ИЛИ Выражение неправильно истолковано в контексте представленной ситуации, представленная ситуация некорректна с этической точки зрения	0
<u>Правописная грамотность</u>	
Предложение(-я) записано(-ы) без орфографических и пунктуационных ошибок	1
При записи предложения(-й) допущены орфографические и/или пунктуационные ошибки	0
<i>Максимальный балл</i>	<i>3</i>

Система оценивания выполнения всей работы

Максимальный первичный балл за выполнение работы – 38.

Рекомендации по переводу первичных баллов в отметки по пятибалльной шкале

Отметка по пятибалльной шкале	«2»	«3»	«4»	«5»
Первичные баллы	0–13	14–23	24–32	33–38